
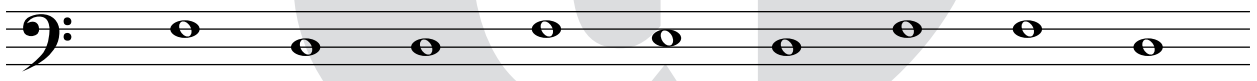
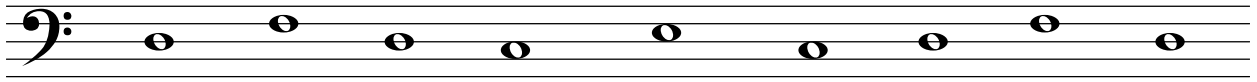


Bilder-Rätsel

7

Welcher nützliche Gegenstand entsteht, wenn du die Noten **C**, **E** und **G** mit einem dicken Klecks bedeckst?



Lösung: _____

